

باسمه تعالی

اداره کل آموزش و پرورش استان لرستان

اداره آموزش و پرورش شهرستان کوهدشت

دبستان غیر دولتی فرهنگ

کلاس: دوم

تاریخ امتحان: ۱۴۰۱/۳/۱

نام:

نام خانوادگی:

نام درس: ریاضیات

پیامبر اکرم(ص): «فرزند صالح گلی است از گل‌های بهشت»

بارم

ردیف

۱ یک سانتی متر ۱۰ میلی متر است . درست نادرست

مستطیل چهار ضلع هم اندازه دارد. درست نادرست

یک ربع چند دقیقه است؟ ۳۰ دقیقه ۲۵ دقیقه ۱۵ دقیقه ۴۰ دقیقه

عدد ۵۱۲ چند رقم دارد؟ رقم دهگان آن چند است؟

۳۵ میلی لیتر همان سانتی متر و میلی متر است.

۱۳ سانتی متر و ۶ میلی متر یعنی چند میلی متر؟

۲

در هر ردیف الگو را ادامه بده:

۵۸ - ۶۰ - ۶۲ - - - -

۶۵۰ - ۶۵۵ - - - - -

۳

تقریب عدد های زیر را بنویس .

۵۸ → ۴۸ → ۷۳ →

+ ۲۳ → ۳۵ → ۶۴ →

.....

۴

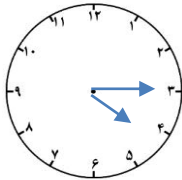












بهدار ۹۸ امتیاز داشت به یک سؤال ۷ امتیازی دیگر پاسخ داد . حالا بهدار چند امتیاز دارد ؟

۵

با حروف و رقم بنویس:

چهارصد و هفت :

۶۲۵ :

۶	<p>ساعت :</p>  <p>ساعت چند است؟.....</p> <p>نیم ساعت بعد ساعت چند می شود ؟.....</p>
۷	<p>کدام عدد زوج است ؟ ۱۳۵ ۱۹ ۱۴۰ ۱۱۳</p>
۸	<p>در جاهای خالی عدد مناسب بنویسید:</p> <div style="display: flex; justify-content: space-around;"> <div style="text-align: center;">   </div> <div style="text-align: center;">   </div> </div> <div style="display: flex; justify-content: space-around; margin-top: 20px;"> <div style="text-align: center;">    </div> <div style="text-align: center;">    </div> </div> <p>..... دسته تایی می شود :..... تا دسته تایی می شود :..... تا</p>
۹	<p>با توجه به شکل و جمله ها جاهای خالی را کامل کنید:</p> <div style="display: flex; justify-content: space-around; align-items: center;">   </div> <p>..... قسمت از..... قسمت مساوی رنگ شده است. ۲ قسمت از ۶ قسمت مساوی رنگ شده است</p>